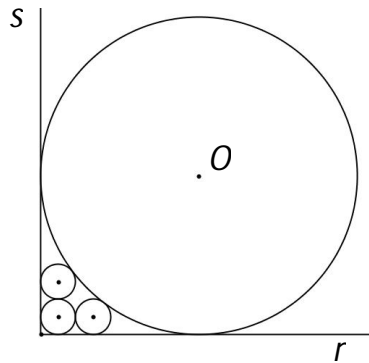


A área de um triângulo  $ABC$  será denotada por  $(ABC)$ .

**Questão 1.** (pontuação: 2)

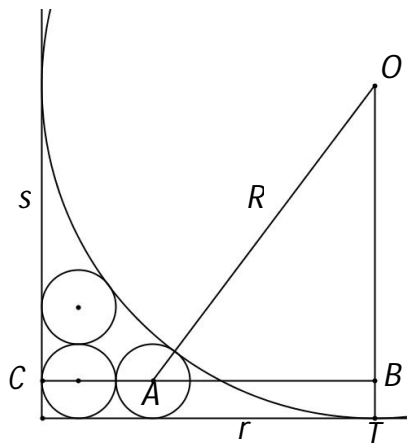
A figura abaixo mostra as semirretas perpendiculares  $r$  e  $s$ , três circunferências pequenas cada uma com raio igual a 1 e uma circunferência grande de centro  $O$ . Uma das circunferências pequenas é tangente a  $r$  e a  $s$ , cada uma das outras duas é tangente a ela e a uma das semirretas, e a circunferência grande é tangente às semirretas e a duas das circunferências pequenas.



Calcule o raio da circunferência grande.

**Uma solução:**

Na figura a seguir,  $A$  é o centro da circunferência pequena que tangencia  $r$  e a circunferência grande,  $OT$  é perpendicular a  $r$  e a reta  $BC$  passa por  $A$  e é paralela a  $r$ .



Seja  $R$  o raio da circunferência grande. No triângulo retângulo  $ABO$  temos  $OA = R+1$ ,  $OB = R-1$  e  $AB = R-3$ . O teorema de Pitágoras conduz à equação  $R^2 - 10R + 9 = 0$  cujas raízes são 1 e 9.

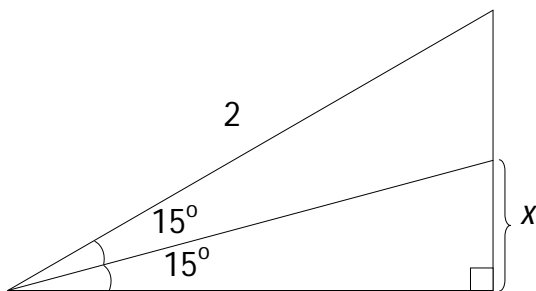
Devido às características do problema, a menor raiz é o raio da circunferência pequena tangente às duas semirretas e a maior raiz é o raio da circunferência grande.

O raio da circunferência grande é igual a 9.

**Questão 2.** (pontuação: 2)

No triângulo  $ABC$  a bissetriz do ângulo  $BAC$  encontra o lado  $BC$  em  $D$ .

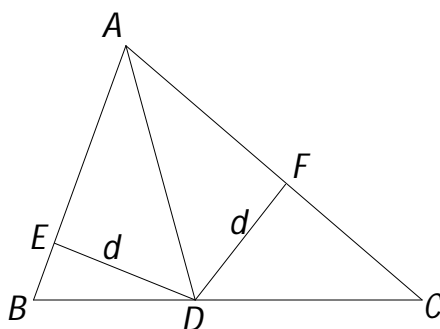
- a) Prove que  $\frac{DB}{DC} = \frac{AB}{AC}$  (teorema da bissetriz interna).
- b) Use o teorema acima e a figura abaixo para calcular a tangente de  $15^\circ$ .



**Uma solução:**

- a) Se dois triângulos têm mesma altura, então a razão entre suas áreas é igual à razão entre suas bases. Assim,

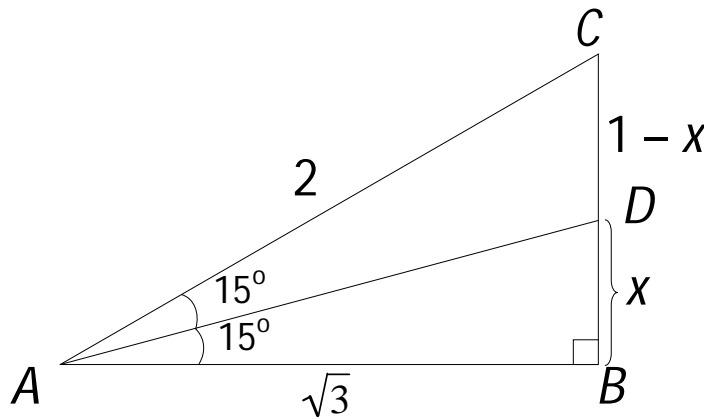
$$\frac{(ADB)}{(ADC)} = \frac{DB}{DC}$$



Sejam  $DE$  e  $DF$  perpendiculares a  $AB$  e  $AC$  como na figura anterior. Como todo ponto da bissetriz de um ângulo equidista dos lados desse ângulo, então  $DE = DF = d$ . Assim,

$$\frac{(ADB)}{(ADC)} = \frac{(1/2).AB.d}{(1/2).AC.d} = \frac{AB}{AC}, \quad \text{portanto} \quad \frac{DB}{DC} = \frac{AB}{AC}, \quad \text{c.q.d.}$$

b) Como o triângulo  $ABC$  da figura é retângulo em  $B$  e tem ângulo  $\hat{B}AC = 30^\circ$  e hipotenusa  $AC = 2$ , então  $BC = 1$  e  $AB = \sqrt{3}$ .



O teorema da bissetriz interna aplicado a esse triângulo fornece:  $\frac{DB}{DC} = \frac{AB}{AC}$ , ou seja,  $\frac{x}{1-x} = \frac{\sqrt{3}}{2}$ . Aplicando propriedades das proporções podemos escrever:

$$\frac{x}{\sqrt{3}} = \frac{1-x}{2} = \frac{x+(1-x)}{\sqrt{3}+2} = \frac{1}{2+\sqrt{3}}.$$

Porém, observando o triângulo  $ABD$ , vemos que  $\frac{x}{\sqrt{3}}$  é a tangente do ângulo de  $15^\circ$ . Assim,

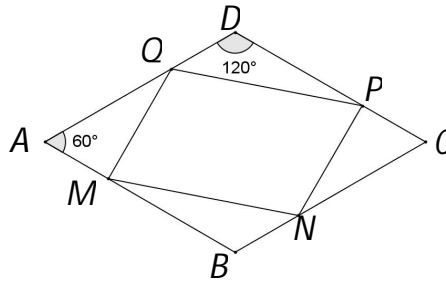
$$\tan 15^\circ = \frac{1}{2+\sqrt{3}} = 2 - \sqrt{3}.$$

**Questão 3.** (pontuação: 3)

O losango  $ABCD$  tem lado 3 e ângulo  $\hat{A} = 60^\circ$ . Os pontos  $M, N, P$  e  $Q$  pertencem aos lados  $AB, BC, CD$  e  $DA$ , respectivamente e são tais que  $AM = BN = CP = DQ = 1$ .

- Justifique, de forma breve, porque o quadrilátero  $MNPQ$  é um paralelogramo.
- Calcule a área do quadrilátero  $MNPQ$ .
- Calcule a distância entre os pontos  $M$  e  $P$ .

Uma solução:



a) Os triângulos  $AMQ$  e  $CPN$  são congruentes (caso LAL). Daí,  $MQ = NP$ . Os triângulos  $BNM$  e  $DQP$  são congruentes (caso LAL); daí,  $MN = QP$ . Assim, o quadrilátero  $MNPQ$  possui dois pares de lados opostos congruentes. Logo, é um paralelogramo.

$$b) (AMQ) = \frac{1}{2} \cdot AM \cdot AQ \cdot \sin 60^\circ = \frac{1}{2} \cdot 1 \cdot 2 \cdot \frac{\sqrt{3}}{2} = \frac{\sqrt{3}}{2}.$$

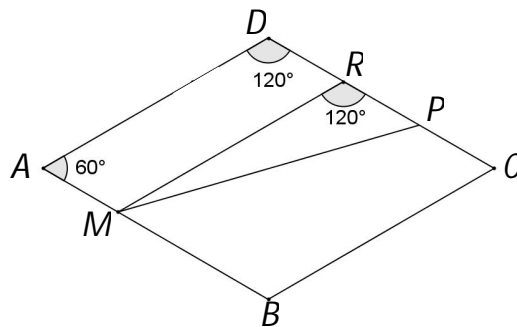
Como os ângulos de  $60^\circ$  e  $120^\circ$  possuem mesmo seno, concluímos que os triângulos  $AMQ$ ,  $BNM$ ,  $CPN$  e  $DQP$  possuem todos a mesma área, igual a  $\frac{\sqrt{3}}{2}$ .

$$\text{A área do losango é igual a } AB \cdot AD \cdot \sin 60^\circ = 3 \cdot 3 \cdot \frac{\sqrt{3}}{2} = \frac{9\sqrt{3}}{2}.$$

A área do paralelogramo é

$$S = \frac{9\sqrt{3}}{2} - 4 \frac{\sqrt{3}}{2} = \frac{5\sqrt{3}}{2}.$$

c) Seja  $R$  o ponto médio de  $PD$ . Como  $AM$  é paralelo a  $DR$  e ambos têm comprimento 1 então  $AMRD$  é um paralelogramo e  $MR = AD = 3$ . Além disso,  $RP = 1$  e  $\widehat{MRP} = 120^\circ$ .



No triângulo  $MRP$  a lei dos cossenos fornece:

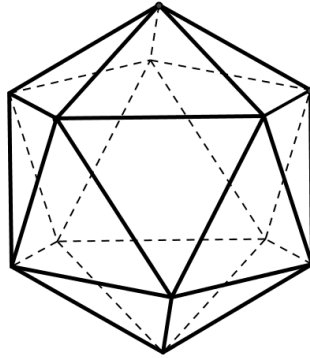
$$MP^2 = MR^2 + RP^2 - 2 \cdot MR \cdot RP \cdot \cos 120^\circ = 3^2 + 1^2 - 2 \cdot 3 \cdot 1 \cdot \left(-\frac{1}{2}\right) = 13 \implies MP = \sqrt{13}.$$

**Questão 4.** (pontuação: 1)

O icosaedro regular é o poliedro formado por 20 faces triangulares equiláteras. Determine quantas diagonais do icosaedro **não** passam pelo seu centro.

**Uma solução:**

O icosaedro possui 20 faces triangulares. Como cada aresta é lado de exatamente duas faces, o número de arestas do icosaedro é  $A = \frac{20 \cdot 3}{2} = 30$ .



O número de vértices pode ser calculado pela relação de Euler  $V - A + F = 2$ , de onde  $V = 12$ .

Cada segmento que une dois vértices do icosaedro ou é aresta ou é diagonal. Assim, denotando por  $C_V^2$  o número de escolhas de subconjuntos com dois elementos do conjunto de todos os vértices do icosaedro, o número de diagonais do icosaedro é

$$D = C_V^2 - A = C_{12}^2 - A = \frac{12!}{10!2!} - 30 = 66 - 30 = 36$$

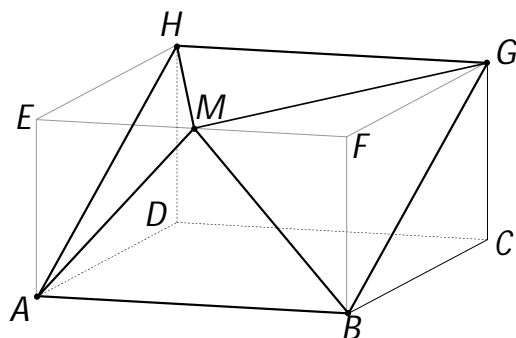
O icosaedro possui 6 pares de vértices diametralmente opostos e cada diagonal que une dois vértices diametralmente opostos passa pelo centro do icosaedro. Essas são as únicas diagonais que passam pelo centro. Então, o número de diagonais que não passam pelo centro é  $36 - 6 = 30$ .

**Questão 5.** (pontuação: 2)

Considere o paralelepípedo retângulo de bases  $ABCD$  e  $EFGH$  e com arestas laterais  $AE$ ,  $BF$ ,  $CG$  e  $DH$ . As medidas são  $AB = 6$ ,  $AD = AE = 4$  e  $M$  é o ponto médio da aresta  $EF$ . São feitas as seções pelos planos  $MHA$  e  $MBG$ . Retirando-se os tetraedros  $EMHA$  e  $FMBG$  resulta o poliedro  $\mathbf{P}$ .

- Faça um desenho do poliedro  $\mathbf{P}$  e calcule seu volume.
- Determine o cosseno do ângulo entre as retas  $AH$  e  $MG$ .

Uma solução:



O desenho de **P** está acima.

Se pensarmos o tetraedro  $EMHA$  com base  $EMH$  e altura  $EA$ , podemos calcular seu volume do seguinte modo:

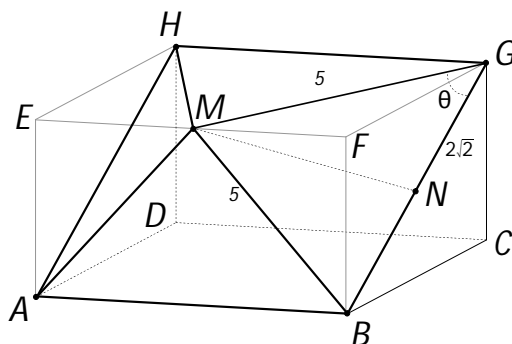
$$v = \frac{1}{3} \cdot \frac{EM \cdot EH}{2} \cdot EA = \frac{1}{3} \cdot \frac{3 \cdot 4}{2} \cdot 4 = 8$$

O tetraedro  $FMBG$  tem também volume  $v = 8$  porque é congruente com  $EMHA$ .

O volume de **P** é o volume do paralelepípedo subtraído dos volumes dos tetraedros, ou seja,

$$V = 6 \cdot 4 \cdot 4 - 2 \cdot 8 = 96 - 16 = 80$$

b) O ângulo entre as retas  $AH$  e  $MG$  é o ângulo entre  $BG$  e  $MG$ , ou seja, o ângulo  $\theta = \widehat{BGM}$ . Como  $FM = 3$  e  $FB = FG = 4$  temos, pelo teorema de Pitágoras,  $BG = 4\sqrt{2}$  e  $MB = MG = 5$ .



O triângulo  $MBG$  é isósceles. Então, assinalando o ponto  $N$  médio do lado  $BG$ , temos que  $MN$  é perpendicular a  $BG$ . Assim, no triângulo  $MNG$ ,

$$\cos \theta = \frac{NG}{MG} = \frac{2\sqrt{2}}{5}.$$